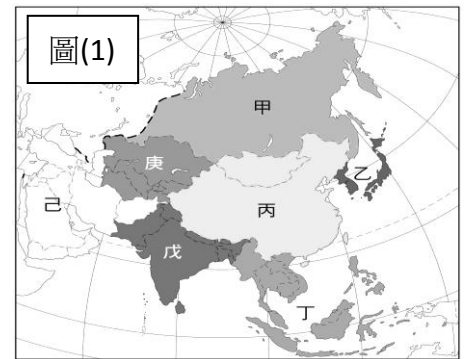


# 宜昌國中 109 學年度下學期 第 1 次段考 8 年級 社會科試題

## 一、課本習作基礎題(每題 5 分，共 30 分)

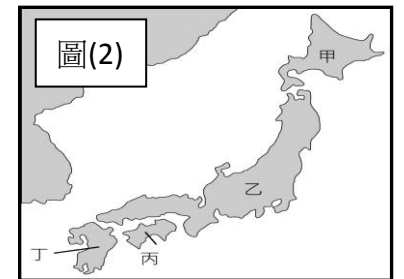
地理部分 命題教師:黃清銓

1. 亞洲為全世界土地面積最大的一洲，通常分為七個地區，請問:在右圖(1)中的哪一個代號所指稱的是一般所謂的『東北亞』?(課本 P.12 地圖)



- (A)甲 (B)乙 (C)丙 (D)戊
2. 承上題，請以圖中東北亞的海陸分布及緯度來判斷，請問東北亞地區主要以下列哪一個氣候類型為主? (課本 P.14)
- (A)熱帶雨林氣候 (B)溫帶海洋性氣候 (C)熱帶季風氣候 (D)溫帶季風氣候

3. 日本群島有 6000 多座大小島嶼，其中最主要由四個大島所組成，請問這四個大島依圖(2)中代號『甲、乙、丙、丁』的順序，正確的名稱排列應該為何?(課本 P.13)



- (A)北島、光州、四國、九州 (B)北海道、九州、四國、婆羅州  
(C)北海道、本州、四國、九州 (D)北島、本州、四國、光州
4. 長久以來，日本漁業生產量平均約佔全球 15%，每年超過 1000 萬公噸，漁獲消費量也久居世界前列，有『世界最愛吃魚的民族』之稱。請問：上述形成日本漁業發達、漁獲量極高之因，與下列何者最為相關?
- (A)因沿海有寒暖流交會，造就了西北太平洋漁場 (B)因位板塊接觸地帶，多溫泉導致海水的溫度較高  
(C)國土跨越熱溫寒三大氣候帶，造就豐富漁獲量 (D)明治維新西化運動時，北歐食魚傳統文化傳入導致

5. 朝鮮半島在二戰後又爆發韓戰，故分裂為北韓和南韓兩個政體，大致以  為界，以北是「朝鮮民主主義人民共和國」，以南是「大韓民國」，兩國的政治體制、經濟發展差異甚大。(課本 P.26)

- (A)長白山脈 (B)蓋馬高原 (C)太白山脈 (D)北緯 38 度線
6. 承上題，請問下列有關南北韓的比較表，表中哪一選項的描述最正確?(習作 P.6)

	北韓	南韓
(A)發展農業條件	平原為主、農作物生長期較長	高原為主、農作物生長期較短
(B)經濟制度	自由資本主義	共產市場經濟
(C)工業發展情況	以製造軍事武器的重工業為主	依序以輕、重、高科技工業和影視娛樂產業來發展經濟
(D)礦產資源	較缺乏	較豐富

## 二、短文閱讀理解題 (每題 5 分，共 40 分)

7. 台灣不少人的家中都會有些日本品牌的家電或日用品(如:SONY、日立、TOYOTA、美津濃)，但有些產品標示的不是日本製造(made-in-Japan)，卻是泰國或越南製造的，你覺得最可能的原因為何？

- (A)此些日商已倒閉，品牌已賣給國外企業 (B)為降低生產成本，日商將部分工廠外移至工資低廉的國家  
(C)東南亞大量仿冒日本本土品牌導致的結果 (D)日本受到國際經濟制裁，日本製產品無法賣到其他國家

8. (工商時報 鄭勝得 2021.02.07 報導) 西元 2019 年 9 月，北韓駐科威特代理大使柳賢雨 (Ryu Hyun-woo) 帶著妻女投奔韓國，如今已在該國低調生活逾一年。據韓國統一部數據顯示，每年叛逃至韓國的北韓民眾約一千人，其中不乏外交、軍事與政府菁英。柳賢雨在科威特待了四年，在此之前派駐於敘利亞四年。平壤當局曾私下販賣武器給敘利亞，同時派出數千人至科威特以勞役換取金錢，以協助國家賺取外匯。專家表示，北韓向來利用外交人員管控外派的勞工在海外賺錢或尋覓財源，叛逃者可能未達到當局要求而決定叛逃。近年來，越來越多北韓外交官員投奔韓國，柳賢雨僅是最新一例。2016 年，北韓駐英國公使太永浩 (Tae Young Ho) 與家人脫北抵達韓國後，還曾當選南韓國會議員。2019 年，北韓駐義大利代理大使曹成吉 (Jo Song Gil) 與妻子也經由第三國投奔韓國。

根據上述報導，平壤當局曾私下販賣武器給敘利亞，同時派出數千人至科威特以勞役換取金錢，以協助國家賺取外匯的主要原因為何？

- (A)北韓發展一帶一路政策，積極與西亞各國進行國際結盟 (B)因西亞各國大量仰賴北韓的石油探勘技術和人才  
(C)因北韓缺乏煤鐵礦產，和西亞各國從事交換貿易 (D)北韓發展核武受到國際經濟制裁，經濟遲緩所致

9. 承上題，北韓每年叛逃的民眾，一般俗稱為『脫北者』。參閱圖(3)，這些脫北者最主要的逃亡路線為，先渡過北韓和A國的分界河『B河川』，便能直接抵達A國，但在抵達A國之後得先隱瞞身分，不能被與北韓友好的A國公安發現，否則又會被遣返回北韓，下場通常很淒慘。然後得再從A國境內往南偷偷地長途跋涉數千公里到達第三國，通常是東南亞的寮國或泰國以尋求政治庇護，最後才能安全地被移送到所申請的庇護國，過程艱辛又危險。請問，『A國』和『B河川』分別應該是哪一個？



- (A)中國、鴨綠江 (B)蒙古、圖們江 (C)俄羅斯、黑龍江 (D)南韓、漢江

10. 2011年3月11日發生東日本大地震，帶來海嘯、餘震，受災地區主要集中在本州東北部、北海道一帶，死亡人數超過15,000人，為日本歷史上傷亡及經濟損失最慘重的天災之一。日本多地震的原因與哪項位置特性最有關聯？(習作 p.1)

- (A)板塊交界的接觸位置 (B)回歸線的通過位置 (C)海洋與大陸的交會位置 (D)東北季風和西南季風的交替位置

11. 「2009年侵襲臺灣的莫拉克颱風帶來驚人雨量，隨著豪雨沖刷下來的漂流木，布滿東海岸的海域，導致臺東許多漁港暫時關閉；部分漂流木更順著洋流流動到日本琉球附近的海域，影響其海上作業船隻的安全。」根據臺灣附近洋流流向判斷，這些漂流木最可能是順著下列哪個洋流漂到琉球附近的海域？(105年會考改編)

- (A)親潮 (B)黑潮 (C)中國沿岸流 (D)東澳暖流

12. 日本矢野經濟研究所預測，2021年日本水產養殖品市場將達到2億美元，比2016年增加53%。但[ ]和[ ]對日本的養殖產業卻造成嚴重的阻礙，許多公司缺少繼任者。可喜的是，多家日本企業已相繼為水產養殖和捕撈漁業開發人工智慧技術(AI)，為日本漁業創造13億日元的產值。例如新日鐵公司研製了一款全自動水下攝影設備，可鑑別魚苗尺寸，分析魚類外觀特徵(如魚鼻、魚鰭)。水溫、鹽度、氣象條件、風向、風速、二氧化碳濃度等影響魚類進食的環境因素，都可以通過人工智慧進行立即分析，提供最精準的飼料投餵量，節省了60-70%的生產成本。日本傳統捕撈業者通常向前輩學習經驗和技術，而經驗豐富的漁民卻越來越少，人工智慧正好可以彌補這一缺陷，為年輕的從業者提供最佳解決方案。(資料來源 <https://kknews.cc/agriculture/nlevynq.html>)

請問：上述新聞中的兩個[ ]應填入哪兩句話，會最符合文章本意和日本的產業現況？

- (A)政府扶植大財團、時尚產業品牌化 (B)國家發展核武工業、受到國際經濟制裁  
(C)高齡化問題、勞動力不足 (D)海洋捕撈漁業衰弱、國際貿易大量萎縮

13. 日本的農業自古著重於水稻和水果栽培，稻米主要在日本海沿岸和東北地區生產，但因耕地面積僅佔日本國土的11.1%，故農業依舊侷限於在小範圍的土地，平均每一戶人家耕種範圍不到1公頃，而在勞力密集的生產方式下，現今日本每單位耕地面積的農產量仍高居世界第一。(維基百科)

請問：下列哪一個敘述最符合上述日本的農業現況？

- (A)集約式農業 (B)粗放式農業 (C)火耕式農業 (D)高度機械化

14. 日本國際貿易的主要出口地區為亞洲及北美；亞洲中以亞洲四小龍(台灣、香港、南韓、新加坡，約21%)及中國(約20%)為主，北美以美國(約19%)為主，合計約佔日本出口量的60%。輸出品中的99%是工業產品，如日本是世界第二大汽車出口國。而在進口方面，主要是從東南亞國家及新興工業經濟體輸入出口工業所需的工業原料和能源，比例如下：以石油及石化相關產品佔15.6%為最大宗，工業機器12.5%，魚貝類5.4%，布料4.8%，液化瓦斯4.4%，木材3.3%，肉類2.8%，煤2.8%。(https://www.macromicro.me/collections/56/jp-trade-relative/784/jp-export-country)

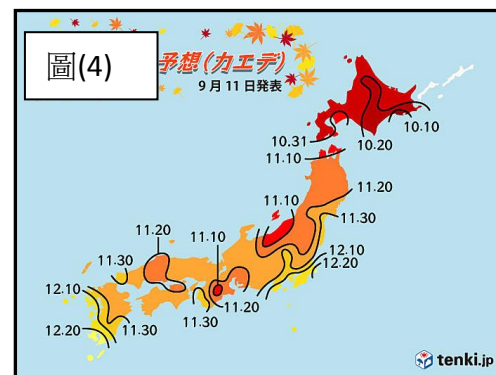
請問：下列哪一個敘述最符合上述的短文內容？

- (A)日本的內需市場廣大，工業產品不足自給，需要進口很多的民生工業產品。  
(B)從事能源礦產、工業原料及產品進出口的國際貿易，是日本經濟的主要生命線。  
(C)日本的工業產品品質不佳，故日本人不愛用國貨，需大量外銷到東南亞國家。  
(D)亞洲四小龍國家及北美是日本進口石油及石化相關產品的最大宗貿易夥伴。

三、圖表應用題(每題 5 分，共 30 分)

15. 右圖(4)是提供給遊客參考的日本某種季節性活動的日期預測圖。請問：該活動最可能為下列何者？(課本 P.15 改編)

- (A)玩衝浪 (B)賞櫻花 (C)作泡菜 (D)看楓紅



16. 承上題，觀察圖(4)可知，日本此一季節性活動的時間預測線大致上呈現南北向分布。請問：該現象與下列哪個因素最相關？(習作 P.2 改編)

- (A)季風 (B)時差 (C)緯度 (D)洋流

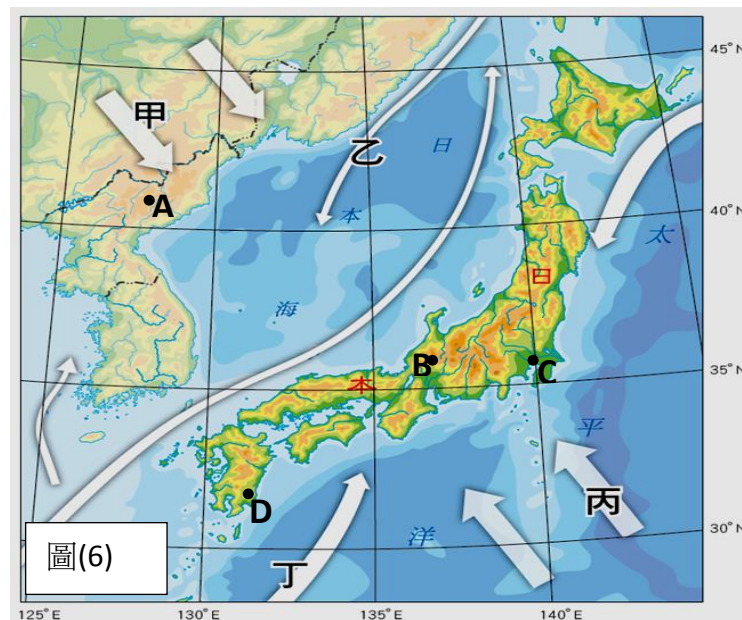
17. 下列哪一描述最能貼近圖(5)日本主要工業區分布圖的內容？(課本 P.22)

- (A)日本政府刻意扶植大型私人財團，故各大工業區各自獨立不往來  
 (B)日本推動一帶一路政策，故各大工業區的國際交通以鐵路為主  
 (C)日本海沿岸氣候因受寒流影響而乾燥缺水，故缺乏大型工業區  
 (D)日本國際貿易依賴海運，故工業區多分布於海運發達的太平洋沿岸。



18. 右圖(6)為日本季風及洋流分布圖，圖中的甲和丙為季風，乙和丁為洋流。請問：下列哪一說明最能符合圖(6)的內容？(課本 P.15 改編)

- (A)甲為夏季季風，和乙暖流，在夏季時為日本帶來溫暖潮溼的氣流。  
 (B)甲為冬季季風，經日本海後挾帶水氣，為日本西岸帶來豐沛降水。  
 (C)乙是黑潮，為寒流，導致冬季時日本太平洋岸港口結冰，海運停擺。  
 (D)甲、丙、丁的共同影響之下，朝鮮半島較同緯度的日本雨量多，氣溫也較暖和。



19. 右圖(7)為東北亞的一個名為白川鄉的傳統民宅『合掌屋』的圖片，因地理位置因素，當地冬季時面臨的西北季風水氣非常豐富，且又因位在深地地區的迎風坡山谷裡，而冬季氣溫又非常寒冷，造就了當地冬季降雪量異常豐富，故屋頂便呈現 60 度角的形式，以利排除大量積雪，這種地理環境及氣候造就的特殊傳統建築文化，於 1995 年 12 月 9 日被聯合國教科文組織登錄為世界文化遺產，而當地冬季雪景就是其主要代表意象。根據上文對於白川鄉自然環境的描述，請依據你所學到的東北亞氣候特徵來判斷，白川鄉最有可能位在上題第 18 題的圖(6)中的哪個代號所在的地點？

- (A)A (B)B (C)C (D)D



圖(7) 白川鄉 合掌屋

20. 【一麵入魂---日本三大拉麵】日本傳統的拉麵因湯頭口味和鹹度的差異，大抵來說可分成三大類，分別分佈在北海道、本州和九州這三個地區，這其中當然受到一些自然環境因素的影響。以下為其三大類的表格：

所在地區	甲區	乙區	丙區
代表拉麵	博多豚骨(豬骨)拉麵	札幌味噌拉麵	喜多方醬油拉麵
特色	本區主要位居副熱帶，氣候炎熱潮濕，因此以豬骨熬煮的乳白色濃郁香醇的湯底來刺激胃口，增加食慾。也因地理位置位居拉麵三大派的最南端，故鹹度通常也最為偏低。	本區拉麵特色為麵湯的上面浮了一層油脂是其特色，且口味在日本也屬最鹹且偏辣，可能是跟當地氣候最冷有關。而麵條是屬於寒帶特有的較粗且呈現波浪紋的麵條，這樣的麵條掛湯力強，能讓麵條沾上更多油脂，以保持暖身，也最適合當地長達半年的寒冷天氣食用。	本類拉麵所在島嶼南北狹長，當地氣候較乙區當地稍微溫暖，故湯頭的口味也由北往南從較鹹味變為清淡，麵條種類屬於細麵，平滑柔軟帶有嚼勁。

(資料來源:國家地理雜誌 2018 年 7 月份 日本的拉麵會隨著當地氣候、習俗、外來影響、食材 取得難易等因素，造成口味上的差異。)

請問表格中的「甲、乙、丙」三個地區的代表性拉麵，依序應該主要位在下列哪三個大島？

- (A)北海道、本州、九州 (B)本海道、九州、本州 (C)九州、北海道、本州 (D)九州、本州、北海道

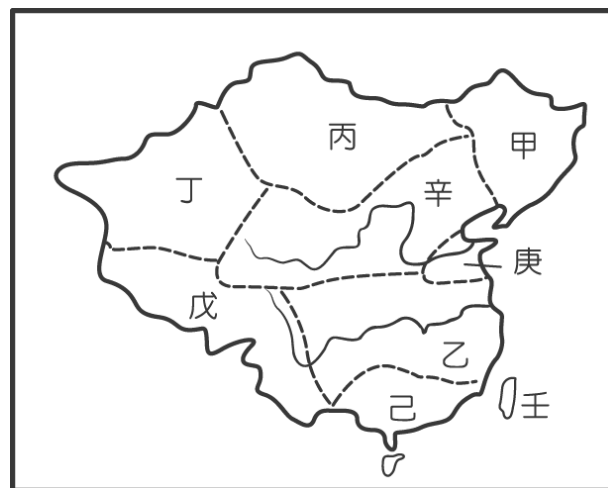
## 一、單一選擇題 (每題 5 分，共 100 分)

21. 某書提及：「清廷想收回民間集資興建鐵路的權利，所以針對民間已投資者提出補償：在湖南、湖北，投資金額全數償還；在廣東，僅償還 60%，其餘 40%由政府股票支付；在四川，政府僅發給股票。這種處置引起四川士紳激憤，朝廷為控制騷亂，將部分湖北軍隊調往四川。」上述情況最可能為下列何者的發生提供了機會？  
(A)自強運動 (B)戊戌政變 (C)義和團事變 (D)辛亥革命
22. 清末，朝野人士面對外力的衝擊，提出不少意見。一日，小周在路上看到一張標語寫著：「驅逐韃虜，恢復中華，創建民國，平均地權。」請問：張貼此標語的應為下列何派人士？  
(A)立憲派 (B)守舊派 (C)投降派 (D)革命派
23. 武昌起事後，成功推翻清廷，建立民國。但民初政局仍動盪不安，其原因來自下列何人缺乏維護共和體制的信念，推動擴充總統職權後，更想恢復帝制？ (A)孫中山 (B)袁世凱 (C)康有為 (D)溥儀
24. 民國初年，有位著名學者徵求結婚對象，他開出下列條件：「必須不纏足；必須識字；如相處不睦，可以離婚。」條件提出後，引起時人討論，有人認為傷風敗俗，也有人認為開風氣之先。請問：這些婚配條件，與下列哪一思想發展有關呢？  
(A)白話文開始流行 (B)兒童文學的產生 (C)引入共產主義思想 (D)男女平等觀念風行
25. 民國初年，某位學者了解到孩子自有其世界，並非「縮小的成人世界」。因此呼籲注重兒童遊戲的重要性，宣稱「遊戲是兒童最正當的行為，玩具是兒童的天使」。請問：這段言論，最有可能出自下列何人？  
(A)魯迅 (B)孫中山 (C)袁世凱 (D)蔡元培
26. 在五四運動以前，鼓吹西方文化的雜誌相當少，到民國 8 年 6 月以後，新出現的刊物竟高達百餘種，全力宣揚各種新潮思想。從這種成長，可以看出五四運動帶來什麼樣的改變？  
(A)仇視洋人，各地出現教案 (B)新文化運動的影響擴大 (C)中國改以「天朝」自居 (D)推行自強運動，富國強兵
27. 在「舊傳統與新思潮」單元上完後，如果想了解更多民國初年的西方文化與新思潮，應優先查閱下列哪項刊物？  
(A)《民報》 (B)《自由中國》 (C)《新青年》 (D)《點石齋畫報》
28. 民國初年，某家報社的報導如下：教育部順應各界呼籲，頒發命令要求首都學務局、各省教育廳、各地高等與師範學校，根據國語統一籌備會函，將新式標點符號頒行全國。請問：教育部頒布此令的主要目的，最有可能是下列何者？  
(A)能更便利閱讀文言文 (B)能避免斷句不同造成誤解 (C)能更有利於推廣印刷術 (D)能讓就讀小學者增加
29. 有學者主張「我手寫我口」，反對文言文，甚至做了一首詩，來表達理念：「文字沒有古今，卻有死活可道。古人叫做『欲』，今人叫做『要』。古人叫做『至』，今人叫做『到』。古人叫做『溺』，今人叫做『尿』。本來同是一字，聲音少許變了。並無雅俗可言，何必紛紛胡鬧？」請問：這首白話詩的作者最可能是下列何人？  
(A)胡適 (B)康有為 (C)梁啟超 (D)袁世凱
30. 民國初年有學者曾提出知識分子宜向西方取經，他講求的「德先生」和「賽先生」，分別是指何者？  
(A)神學與哲學 (B)軍事與國防 (C)民主與科學 (D)教育與經濟
31. 課文 85 頁提到某事件「終結中國兩千多年的帝制時期，轉而宣示國家主權屬於『國民全體』，建立了嶄新的民主共和體制。」以上評述，是針對清末民初哪一事件？  
(A)二次革命的影響 (B)辛亥革命的意義 (C)五四運動的內涵 (D)洪憲帝制的終結
32. 課文 88 頁提到「五九國恥」，下列哪種說法最符合其意？  
(A)袁世凱接受日本提出的「二十一條要求」 (B)日本利用第一次世界大戰派兵入侵北京  
(C)袁世凱五月九日宣布實行帝制，年號洪憲 (D)國民黨人發起二次革命討伐袁世凱失敗

33. 課文 96 頁有提到，第一次大戰期間十四萬華工的故事。請問依據該文章介紹可知，當時歐洲國家在中國招募華工的原因為何？  
 (A)補充戰場上的兵源 (B)協助招募國戰後重建工作 (C)協助招募國戰時所需勞力 (D)八國聯軍時簽定的條約
34. 承上題，如果你是赴歐的華工，戰後即留在歐洲沒有回到中國，請問下列哪一訊息會是你留歐其間獲悉的消息？  
 (A)中國拒絕參加第一次大戰 (B)日本派兵去歐洲進攻德國 (C)中國派代表參加戰後和會 (D)巴黎和會將山東歸回中國
35. 清末面臨內憂外患，有識之士漸而投入救國行列，「革命派」的聲勢原本不大，後因清廷哪一改革運動缺乏誠意，使部分知識分子轉而支持革命？  
 (A)自強運動 (B)維新運動 (C)立憲運動 (D)戊戌變法
36. 中華民國創立初始組建臨時政府，並制定中華民國臨時約法，可視為國家行憲前暫時行使的根本大法。該法議定中華民國政府運作應採用何種制度？  
 (A)總統制 (B)君主立憲制 (C)全民普選制 (D)內閣制
37. 中國民國政府成立初始，首都定於南京，但不久即遷都北京。其遷都的原因為何？  
 (A)因各國公使都駐在北京，不願南遷 (B)袁世凱不願南下就職，藉口北京有兵變  
 (C)南京發生軍事叛變，政府官員北遷 (D)清帝退位時提出的要求，首都需在北京

◆ 「五四運動」帶動了民族主義思潮和愛國情操，時人高喊：「中國的土地可以征服，不可以斷送！」、「中國的人民可以殺戮，不可以低頭！」請問：

38. 五四運動發生的主因為何？  
 (A)《馬關條約》割讓臺澎給日本 (B)中國未在巴黎和會把山東權利收回  
 (C)政府承認日本在東北享有特權 (D)袁世凱接受日本二十一條要求
39. 歷史上的重要運動，常出現口號，做為引領群眾的指標。請問：民國 8 年的五四運動，廣布全國各大城市，其主要訴求的口號是什麼？  
 (A)外爭主權，內除國賊 (B)扶清滅洋  
 (C)革命無罪、造反有理 (D)實行三民主義
40. 請問五四運動的爆發地點，在右圖中的哪裡，後來風潮遍及全中國？  
 (A)甲 (B)辛 (C)庚 (D)壬



## 公民部分

命題教師：張利琦老師

### 一、單選題（一題 5 分，共 100 分）

41. 學宏在複習考試範圍的時候，不小心打翻水，造成原來的筆記有所缺漏，請問下圖中筆記中所缺漏的地方，應該填上什麼最為符合？

民法的原則	意涵
☁️	雙方當事人在誠實無欺的狀態下，訂定契約
契約自由原則	在不違背公共秩序、善良風俗及法律規定下，自由訂定契約內容

- (A)開放原則 (B)誠實信用原則 (C)公平原則 (D)依法行政原則
42. 下列哪些行為並非民法所規範的內容？  
 (A)租賃房屋 (B)殺害他人 (C)繼承遺產 (D)與他人結婚
43. 請問，下列關於民事糾紛的處理方式，何者並沒有出現在本次課文內容？  
 (A)私下和解 (B)訴訟上的和解 (C)仲裁 (D)調解
44. 下列為 25 歲的士方為了結婚所準備的待辦清單，請問哪些是結婚契約中不可或缺的生成要件呢？  
 甲、舉辦結婚儀式並宴客  
 丁、取得雙方父母的書面同意書

- 乙、與男友簽下婚約，完成訂婚  
丙、向法院預先申請公證結婚  
戊、簽訂結婚書面契約  
己、偕同兩位證人並前往戶政事務所進行登記

(A)甲戊 (B)甲乙己 (C)甲丙戊 (D)戊己

45. 下列關於民法的敘述，何者有誤？

- (A)民法保障私人間日常生活上的權利義務關係 (B)民法的規範可以大致分成財產與身份兩大領域  
(C)民法會詳細規範每一種契約一定要有的內容 (D)民法以保護私人間的利益為目的，國家並不會任意干涉

46. 民法中規範了契約的形式，其中「要式契約」需依照法律規定，以特定方式才能成立契約。請問，民法為什麼要有要式契約的規範呢？

- (A)因為被規定需要以要式契約訂定的事情都很重大，希望能讓人謹慎行事 (B)因為法律喜歡找人麻煩  
(C)因為制定法律的人想標新立異 (D)因為想要讓人不要去做那些需要以要式契約訂定的事情

47. 請問，下列關於智慧財產權的敘述何者有誤？

- (A)智慧財產權相關的損害賠償，經常使用回復原狀的方式進行  
(B)智慧財產權包含書籍的版權、特別發明的專利與品牌衣服的商標  
(C)智慧財產權是由法律所保障的一種權利  
(D)智慧財產權的規定，是為了保障人類精神的活動成果外，也同時有鼓勵人們創新創作的精神

48. 下列關於調解委員會的敘述，何者正確？

- (A)調解委員會設立於各地方民意機關（如縣市議會、市民代表會等）中 (B)若向調解委員會聲請調解，需要先繳交費用  
(C)調解委員主要都是地方上有名望或是瞭解法律的人 (D)若調解不成立，不得再訴訟，以免浪費社會資源

49. 關於民事訴訟，下列敘述何者正確？

- (A)民事訴訟可以由知情的第三方提出 (B)訴訟過程中，雙方當事人須提出有利於自己的主張並舉證  
(C)民事訴訟中，若找不到對自己有利的證據，可以尋求書記官的協助 (D)民事訴訟中，法官會主動介入調查與蒐證

50. 公民課堂上，老師請同學透過演戲模擬在糾紛解決中不同的角色。請問，下列何人的臺詞內容最正確？

- (A)車禍被害人小宸：「我的車這一點刮傷，不礙事啦！我已經跟對方私下和解了，就算對方耍賴，我也可以向法院聲請強制執行。」  
(B)調解委員小恩：「小宸，其實民事糾紛不一定要上法院解決，透過調解委員會進行調解，不但省時省錢，調解成立後也具有與法院判決同等的效力呢！」  
(C)車禍肇事人明明：「拜託，我撞到小宸的車也是不小心的，根本不用特別去賠償對方吧！」  
(D)律師阿軒：「小宸，你不要去調解啦，調解委員會跟你收一大筆錢，都要花錢，還不如找我這專業律師來幫你打官司。」

51. 某天，於高雄某大學就讀，已滿18歲、單身的芸芸向店家購買價值八萬元整的筆電，希望能用於製作影片，以達成自己的理想。事後店家卻遭到芸芸母親以法定代理人身分，主張其買賣「契約無效」提告，並經由法院判決成立。請問，下列何者敘述最符合芸芸母親的主張？

- (A)因為芸芸是限制行為能力人，契約訂定原則上需要法定代理人同意才有效  
(B)因為芸芸是完全行為能力人，只是因為課業繁忙的關係，請母親代為主張契約無效  
(C)因為芸芸是無行為能力人，契約行為必須由法定代理人處理  
(D)因為芸芸是限制行為能力人，契約行為必須由法定代理人處理

52. 某天，目前17歲的高中生星瑜在下課期間，不小心將隔壁男同學剛買的手機摔到地上，手機外觀有明顯損傷；男同學向星瑜要求賠償五萬元，但星瑜認為這樣的要求並不合理，因為五萬元已經超出原本手機的價格了。根據民法規定，請問，下列敘述何者最為正確？

- (A)造成手機損傷的是星瑜，所以星瑜的父母不用負擔任何責任  
(B)造成手機損傷的是星瑜，有錯在先的她只能依照男同學的要求進行賠償  
(C)星瑜是不小心的，所以不用進行任何賠償  
(D)星瑜雖然要負責任，但應該以維修手機或是將手機回復原狀為優先，不能回復原狀才進行賠償

53. 小凱是一名在夜市長年擺攤的攤主。因為希望能找到更物美價廉的商品吸引客人購買，小凱於是找上長年合作批貨的朋友阿明幫忙。阿明推薦一家專門生產 M 牌手錶的工廠，一隻手錶只需要五百元就能買進，但經驗豐富的小凱一聽便明白這批貨物絕對不是真品，市面上 M 牌手錶一支少說也要上萬元……。請問，若小凱經查證後發現，阿明所說的工廠生產的 M 牌手錶為仿冒品，下列關於該工廠的描述何者正確？
- (A) 該工廠仿製 M 牌製作手錶的行為，可能侵害 M 牌的智慧財產權  
(B) 該工廠仿製 M 牌製作手錶的行為，只是小事，與法律無關  
(C) 該工廠仿製 M 牌製作手錶的行為，並不屬於民法所討論的侵權行為  
(D) 該工廠仿製 M 牌製作手錶的行為，不須 M 牌主動提出告訴，阿凱也可以進行提告
54. 在討論民事糾紛處理方式時，「是否能聲請法院強制執行」是許多人都會在意的條件。請問，下列何者敘述最有可能是許多人在意的原因？
- (A) 因為更能確保對方會履行雙方都同意的協議  
(B) 因為能公開地讓其他人也知道當事人雙方之間的糾紛，避免再次發生一樣的狀況  
(C) 因為法院能實現當事人的想法，想做什麼就做什麼  
(D) 因為法院所做的判決是絕對正確的，能實現正義
55. 關於本次課文所提到民事糾紛的處理方式中，下列敘述何者錯誤？
- (A) 私下和解是最為簡便的處理方式  
(B) 利用民事訴訟進行處理，一定能得到自己想要的結果  
(C) 訴訟上的和解成立後，與法院判決相同  
(D) 調解是否成立，仍然需要獲得雙方當事人同意，調解委員只是協調的角色
56. 請問 12 歲的建億到 3C 電子產品專賣店，想用自己的零用錢買一台價值六萬元整智慧型手機。請問：如果你是老闆，怎麼處理會最為妥當與合理呢？
- (A) 購買手機是為了符合日常生活所需，所以可以放心地賣給他  
(B) 因為不能確定建億的法定代理人是否同意購買，所以拒絕他的購買要求  
(C) 要求建億回去請法定代理人出面代替他進行交易  
(D) 只要建億能夠拿出足夠的錢來履行契約，此買賣契約即為有效
57. 依照民法規定，個人的契約行為，會因為什麼的不同而發生不同的效力？
- (A) 職業 (B) 判斷能力 (C) 學歷 (D) 財富多寡
58. 18 歲的小蔡買了新房子，並完成相關手續，父母知道後雖不同意，但買賣契約仍然有效；19 歲的雯雯買了昂貴的名牌包，但因為某些原因，此交易行為無效。根據上述內容判斷，文中二人的情況最不可能的是下列何者？【104 會考】
- (A) 雯雯遭受了監護宣告 (B) 小蔡的狀況為已婚 (C) 雯雯屬於限制行為能力人 (D) 小蔡屬於限制行為能力人
59. 12 歲的小楓前往通訊行購買手機，但是店員卻回答說：「這支手機價錢不便宜，你年紀還太小，所以我現在不能賣給你，要不要請你的爸媽帶你來買？」根據民法規定，下列何者最可能是店員這樣回答的原因？【改自 103 會考】
- (A) 小楓為無行為能力人 (B) 契約違反誠實信用原則 (C) 小楓僅具有限制行為能力 (D) 受監護宣告之人沒有行為能力
60. 民法在討論契約效力時，需要先了解不同的行為能力。請將下列人物，依據「無行為能力—限制行為能力—完全行為能力」的順序進行排列。【改自 109 會考】
- 甲、 23 歲，男性，受輔助宣告的佳茗  
乙、 16 歲，女性，已經結婚的辰星  
丙、 6 歲，女性，目前就讀幼稚園的鴻裕
- (A) 甲乙丙 (B) 乙丙甲 (C) 乙甲丙 (D) 丙甲乙

(社會科考題結束)